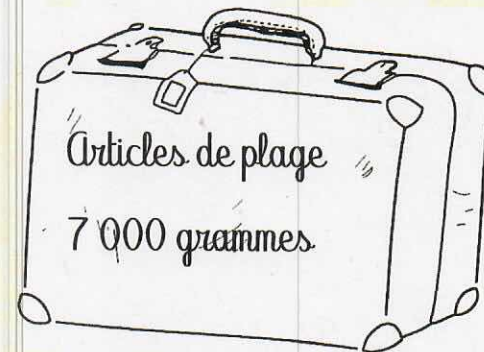
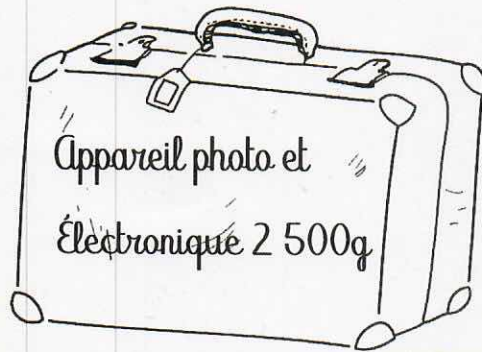



BAGAGES



Tes clients ne souhaitent prendre que deux bagages de 23kg de capacité. En regardant ce que les clients prévoient de mettre dans leurs bagages, détermine si deux valises seront suffisantes. Attention, il faut prévoir qu'il y aura certainement des souvenirs à ramener et ça peut aller très vite...



$$30\ 000 + 2\ 500 + 3\ 500 + 7\ 000 = 43\ 000$$

Total : 43 kg

Deux valises seront suffisantes

QUEL HÔTEL CHOISIR?



Tu dois sélectionner un hôtel qui rentre dans le budget de la famille.

Les Raven auront besoin d'un hôtel qui les logera durant 11 nuits et ont un budget logement de 2000 euros, ils sont quatre. Consulte les tarifs et cherche quelle est la meilleure option.



Sarova Hôtel
196 € la nuit pour 4

$$196 \times 11 = 2156$$



Neptune beach resort
216 € la nuit pour 4


$$216 \times 11 = 2376$$

Ziwa beach resort

65 € la nuit pour 2



$$65 \times 2 = 130$$
$$130 \times 11 = 1430$$



Baobab lodges
80 € la nuit pour 2
petit déjeuner inclus

$$80 \times 2 = 160$$
$$160 \times 11 = 1760$$

Quels sont les hôtels accessibles pour un budget maximum de 2000 euros?

Ziwa beach resort et Baobab lodges

Quel hôtel décides-tu de sélectionner pour les Raven et pourquoi?

Baobab lodges. Il y a le petit déjeuner compris et il y a une piscine.

Quel sera le budget total logement pour les 11 nuits?

Le budget total pour les 11 nuits est de 1760 euros.

BUDGET ACTIVITES



La famille Raven souhaite réaliser toutes les activités du tableau suivant. Réalise le calcul du budget que cela représenterait si la famille pouvait réaliser tous ses souhaits. La famille est composée de deux adultes et deux enfants de moins de 12 ans.

Activités	Tarif adulte	Tarif enfant	Quantité	Total
Safari photo $60 \times 2 = 120$ $30 \times 2 = 60$	60	30	4	$120 + 60 = 180$
Massage et spa à l'hôtel (adultes uniquement) $75 \times 2 = 150$	75	//	2	150
Visite de la réserve de singes $55 \times 2 = 110$ $27 \times 2 = 54$	55	27	4	$110 + 54 = 164$
Baptême de plongée sous-marine $90 \times 2 = 180$ $45 \times 2 = 90$	90	45	4	$180 + 90 = 270$
Parc activités (enfants payants uniquement) $23 \times 2 = 46$	//	23	4	46
Visite d'un village Masai $15 \times 2 = 30$ $7,5 \times 2 = 15$	15	7,50	4	$30 + 15 = 45$
Randonnée au Kilimandjaro $68 \times 2 = 136$ $50 \times 2 = 100$	68	50	4	$136 + 100 = 236$
				1091