

Retrouve les noms des disciplines olympiques et colorie-les de différentes couleurs.

N	P	A	K	S	R	A	P	G	O	I	A	M	S	Q	T	U	R	D	O	E
C	E	S	I	S	K	I	A	C	R	O	B	A	T	I	Q	U	E	N	C	G
U	A	R	A	H	P	C	T	D	S	T	N	I	H	R	N	S	U	I	O	S
R	G	D	E	K	I	B	I	A	T	H	L	O	N	K	O	A	K	Q	M	N
L	D	T	O	S	M	E	N	N	P	K	I	G	D	I	M	P	T	S	B	U
I	U	P	A	T	I	N	A	G	E	D	E	V	I	T	E	S	S	E	I	M
N	H	P	C	O	S	S	G	O	I	G	Q	U	R	E	C	A	A	D	N	H
G	I	I	A	N	S	G	E	H	O	N	G	O	A	A	N	H	U	S	E	E
O	S	M	S	S	K	I	A	L	P	I	N	I	S	M	E	I	T	S	N	O
R	H	Q	B	N	E	M	R	E	R	U	O	I	C	Q	E	K	A	A	O	I
N	O	A	O	O	L	K	T	E	C	H	K	A	M	O	D	I	S	P	R	O
A	R	D	B	W	E	C	I	G	S	K	T	A	S	C	P	N	K	E	D	M
O	T	T	S	B	T	T	S	N	U	D	S	K	I	A	L	P	I	N	I	E
S	T	G	L	O	O	N	T	E	M	R	M	S	G	U	T	O	H	K	Q	N
U	R	I	E	A	N	M	I	I	S	K	I	D	E	F	O	N	D	D	U	P
R	A	A	I	R	I	O	Q	S	A	A	Q	S	T	H	O	I	S	G	E	I
D	C	S	G	D	K	R	U	S	Q	C	U	A	I	E	L	U	G	E	B	E
H	K	C	H	O	C	K	E	Y	S	U	R	G	L	A	G	E	K	T	N	S

BIATHLON

BOBSLEIGH

COMBINE NORDIQUE

CURLING

HOCKEY SUR GLACE

LUGE

PATINAGE ARTISTIQUE

PATINAGE DE VITESSE

SAUT A SKI

SHORT-TRACK

SKELETON


SKI ACROBATIQUE

SKI ALPIN

SKI ALPINISME

SKI DE FOND

SNOWBOARD



1 : autre nom du ski alpinisme

2 : sorte de luge la tête en avant

3 : long bâton utilisé en hockey

4 : patins où le talon se décolle

5 : nom de la cible au curling

6 : surface où se dispute la luge

7 : épreuve de patinage artistique

8 : pays hôte des JO d'hiver 2026

9 : patinage de vitesse sur piste courte

10 : sport mélangeant ski et tir à la carabine

11 : épreuve rapide de ski alpin

12 : course en équipe

13 : sorte de piste en demi-cylindre

14 : technique de ski de fond

15 : sorte de traineau de glisse




16 : piste inclinée pour le saut à ski

17 : sorte de surf des neiges

18 : pays hôte des JO d'hiver 2030

### Problème 1 :

5 athlètes se disputent la victoire lors de la descente de ski alpin. Retrouve leur classement en utilisant les informations données.




Place				4 <sup>ème</sup>	5 <sup>ème</sup>
Nationalité					

Le skieur suisse a été plus rapide que le français. Le skieur français n'est pas premier. Le skieur italien a été moins rapide que le français. Le skieur canadien a été le moins rapide. Le skieur norvégien a été plus rapide que le suisse.

### Problème 2 :

Voici les temps des deux manches de slalom de trois skieurs. Les temps sont en secondes et en centièmes de secondes. Calcule leur temps final en additionnant les deux chronos puis place-les sur le podium.

Slalom	Manche 1	Manche 2	Total
Allemand	54 s 30	49 s 79	
Suédois	53 s 98	50 s 81	
Autrichien	53 s 92	50 s 78	

Place			
Nationalité			

### Problème 3 :

Voici les scores des deux programmes des patineurs hommes en individuel lors des JO de 2022. Quel patineur a remporté la médaille d'or ?

Patineur	Programme libre	Programme court	Total	Médaille
Yuma Kagiya	108,12	201,93		
Shoma Uno	105,90	187,10		
Nathan Chen	113,97	218,63		