

Retrouve les noms des disciplines olympiques et colorie-les de différentes couleurs.

| | | | | | | | | | | | | | | | | | | | | |
|---|---|---|---|---|---|---|---|---|---|---|---|---|---|---|---|---|---|---|---|---|
| N | P | A | K | S | R | A | P | G | O | I | A | M | S | Q | T | U | R | D | O | E |
| C | E | S | I | S | K | I | A | C | R | O | B | A | T | I | Q | U | E | N | C | G |
| U | A | R | A | H | P | C | T | D | S | T | N | I | H | R | N | S | U | I | O | S |
| R | G | D | E | K | I | B | I | A | T | H | L | O | N | K | O | A | K | Q | M | N |
| L | D | T | O | S | M | E | N | N | P | K | I | G | D | I | M | P | T | S | B | U |
| I | U | P | A | T | I | N | A | G | E | D | E | V | I | T | E | S | S | E | I | M |
| N | H | P | C | O | S | S | G | O | I | G | Q | U | R | E | C | A | A | D | N | H |
| G | I | I | A | N | S | G | E | H | O | N | G | O | A | A | N | H | U | S | E | E |
| O | S | M | S | S | K | I | A | L | P | I | N | I | S | M | E | I | T | S | N | O |
| R | H | Q | B | N | E | M | R | E | R | U | O | I | C | Q | E | K | A | A | O | I |
| N | O | A | O | O | L | K | T | E | C | H | K | A | M | O | D | I | S | P | R | O |
| A | R | D | B | W | E | C | I | G | S | K | T | A | S | C | P | N | K | E | D | M |
| O | T | T | S | B | T | T | S | N | U | D | S | K | I | A | L | P | I | N | I | E |
| S | T | G | L | O | O | N | T | E | M | R | M | S | G | U | T | O | H | K | Q | N |
| U | R | I | E | A | N | M | I | I | S | K | I | D | E | F | O | N | D | D | U | P |
| R | A | A | I | R | I | O | Q | S | A | A | Q | S | T | H | O | I | S | G | E | I |
| D | C | S | G | D | K | R | U | S | Q | C | U | A | I | E | L | U | G | E | B | E |
| H | K | C | H | O | C | K | E | Y | S | U | R | G | L | A | G | E | K | T | N | S |

BIATHLON

BOBSLEIGH

COMBINE NORDIQUE

CURLING

HOCKEY SUR GLACE

LUGE

PATINAGE ARTISTIQUE

PATINAGE DE VITESSE

SAUT A SKI

SHORT-TRACK

SKELETON


SKI ACROBATIQUE

SKI ALPIN

SKI ALPINISME

SKI DE FOND

SNOWBOARD



- 1 : autre nom du ski alpinisme
2 : sorte de luge la tête en avant
3 : long bâton utilisé en hockey
4 : patins où le talon se décolle
5 : nom de la cible au curling
6 : surface où se dispute la luge
7 : épreuve de patinage artistique
8 : pays hôte des JO d'hiver 2026
9 : patinage de vitesse sur piste courte
- 10 : sport mélangeant ski et tir à la carabine
11 : épreuve rapide de ski alpin
12 : course en équipe
13 : sorte de piste en demi-cylindre
14 : technique de ski de fond
15 : sorte de traineau de glisse
16 : piste inclinée pour le saut à ski
17 : sorte de surf des neiges
18 : pays hôte des JO d'hiver 2030



Découpe et colle les drapeaux des pays d'Europe participants aux JO d'hiver au bon endroit.





| | | | |
|--|---|--|--|
|  Norvège |  Pologne |  Slovaquie |  Belgique |
|  Allemagne |  Autriche |  République Tchèque |  Espagne |
|  Suisse |  Suède |  Ukraine |  Grande- Bretagne |
|  France |  Italie |  Finlande |  Estonie |



Problème 1 :

5 athlètes se disputent la victoire lors de la descente de ski alpin. Retrouve leur classement en utilisant les informations données.

| Place |  |  |  | 4 ^{ème} | 5 ^{ème} |
|-------------|---|---|---|------------------|------------------|
| Nationalité | Norvégien | Suisse | Français | Italien | Canadien |

Le skieur suisse a été plus rapide que le français. Le skieur français n'est pas premier. Le skieur italien a été moins rapide que le français. Le skieur canadien a été le moins rapide. Le skieur norvégien a été plus rapide que le suisse.

Problème 2 :

Voici les temps des deux manches de slalom de 3 skieurs. Les temps sont en secondes et en centièmes de secondes. Calcule leur temps final en additionnant les deux chronos puis place-les sur le podium.

| Slalom | Manche 1 | Manche 2 | Total |
|------------|----------|----------|---------------|
| Allemand | 54 s 30 | 49 s 79 | 1 min 44 s 09 |
| Suédois | 53 s 98 | 50 s 81 | 1 min 44 s 79 |
| Autrichien | 53 s 92 | 50 s 78 | 1 min 44 s 70 |

| Place |  |  |  |
|-------------|---|---|---|
| Nationalité | Allemand | Autrichien | Suédois |

Problème 3 :

Voici les scores des deux programmes des patineurs hommes en individuel lors des JO de 2022. Quel patineur a remporté la médaille d'or ?

| Patineur | Programme libre | Programme court | Total | Médaille |
|---------------|-----------------|-----------------|--------|----------|
| Yuma Kagiyama | 108,12 | 201,93 | 310,05 | Argent |
| Shoma Uno | 105,90 | 187,10 | 293 | Bronze |
| Nathan Chen | 113,97 | 218,63 | 332,6 | Or |

C'est Nathan Chen qui a remporté la médaille d'or.