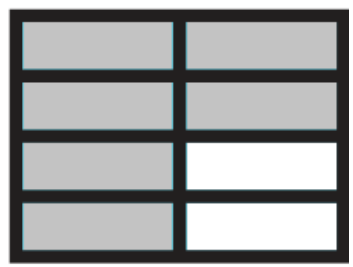


IDENTIFIER LES FRACTIONS

Consigne : Ecris la fraction correspondante ou représente-la.





















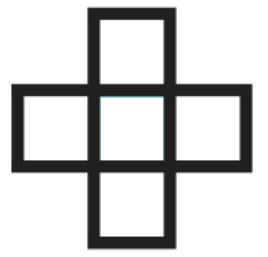
$\frac{2}{5}$



$\frac{1}{6}$



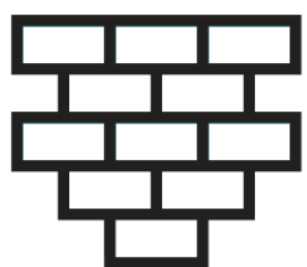
$\frac{3}{2}$



$\frac{4}{5}$



$\frac{7}{7}$



$\frac{4}{11}$



$\frac{3}{7}$



$\frac{1}{4}$





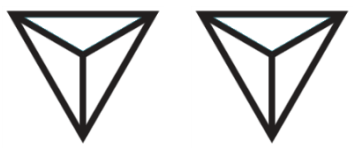

Consigne : Colorie de la même couleur les écritures d'une même fraction.

un quart $\frac{2}{6}$ deux tiers $\frac{1}{2}$

$\frac{4}{5}$ un demi quatre cinquièmes deux sixièmes

$\frac{1}{4}$ $\frac{2}{3}$

Consigne : Complète le tableau en fonction des informations données.

Fraction écriture numérique	Fraction écriture en lettres	Représentation de la fraction
	deux huitièmes	
		
$\frac{4}{5}$		
		
$\frac{5}{3}$		
	trois quarts	

Consigne : Dessine le drapeau du Nigeria. Il est composé d'un tiers de blanc au centre, et de deux tiers de vert.

