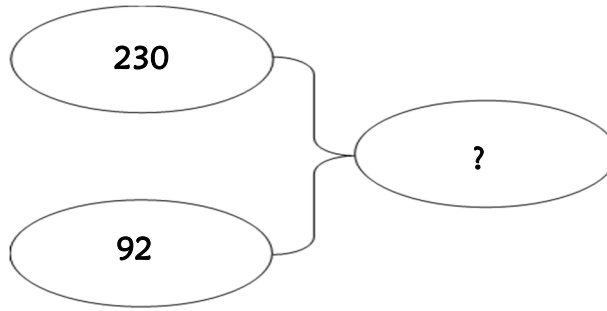


Résolution de problèmes CM1 - *Problèmes additifs : composition 1*

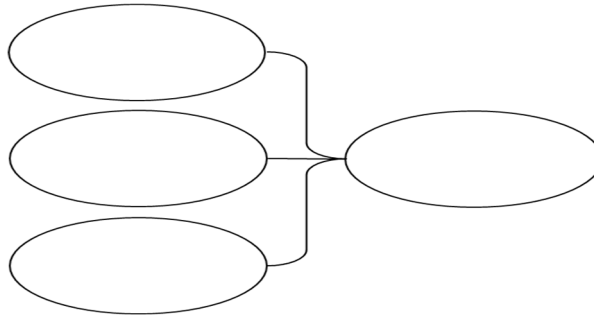
Problème collectif

De Paris à Bourges il y a 230 km.
De Bourges à Montluçon il y a 92 km.
Quelle distance sépare Paris de Montluçon ?

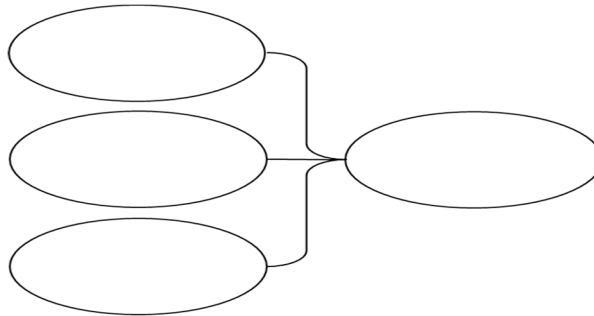


Entraînements

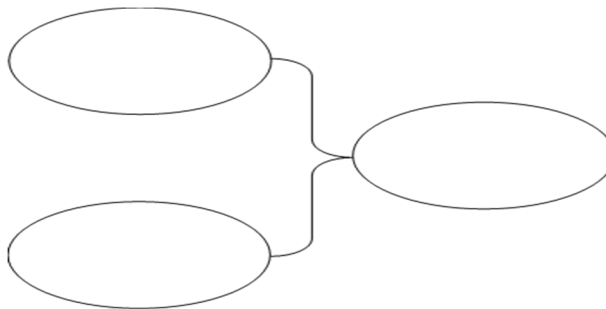
1 - Un monsieur a acheté une paire de skis à 327 €, une paire de chaussures à 107 €, un anorak à 99 €.
Quel est le montant de son achat ?



2 - Les enfants des écoles du quartier se rendent au théâtre. Il y a 152 places réservées pour l'école Champollion, 123 places pour l'école Alembert, 87 places pour l'école Lesdiguières.
Combien de places ont été réservées en tout ?



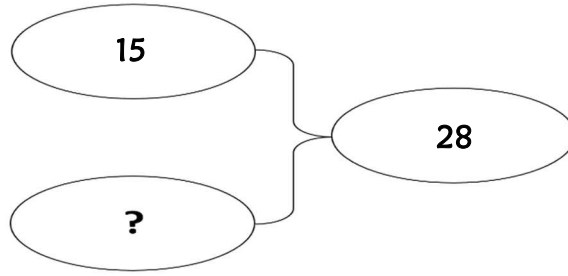
3 - Un fleuriste compose un bouquet avec 9 œillets et 9 tulipes.
De combien de fleurs le bouquet est-il composé ?



Résolution de problèmes CM1 - *Problèmes additifs : composition 2*

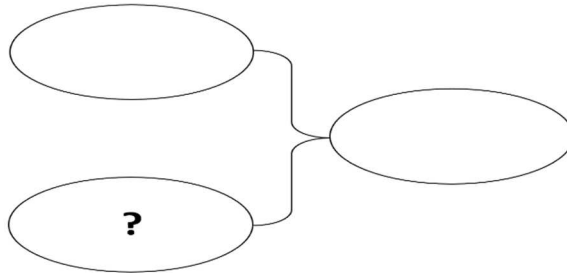
Problème collectif

Dans mes poches, j'ai 28 billes. J'en ai 15 dans la poche gauche.
Combien ai-je de billes dans la poche droite?

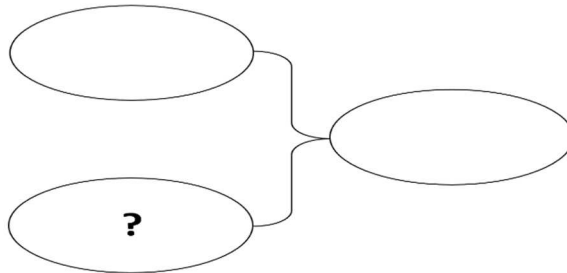


Entraînements

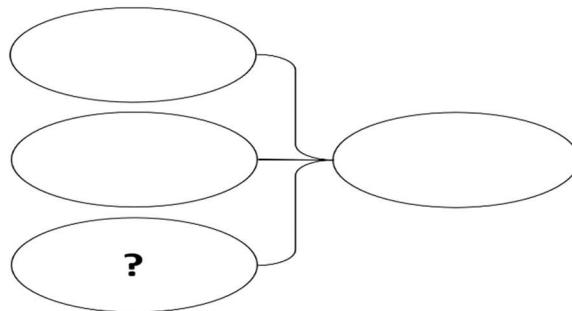
1 - Dans une salle de spectacle, il y a 1 200 places. 896 places sont occupées.
Combien de places sont inoccupées ?



2 - En Azurie, il y a 425 000 km de routes et autoroutes. Les routes nationales et départementales représentent 345 578 km.
Quel kilométrage représentent les autoroutes ?



3 - La somme de 3 nombres est 545. L'un des 3 est 7, un autre est 214.
Quel est le troisième ?



Résolution de problèmes CM1 - Problèmes additifs : composition 3

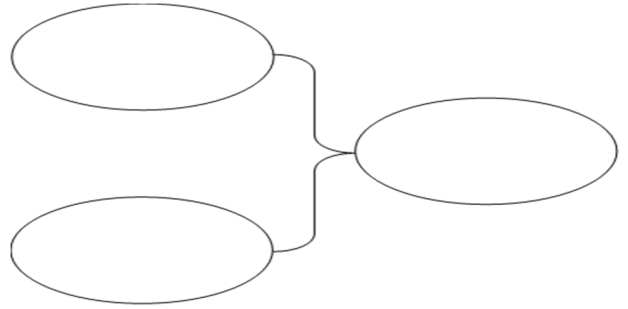
Pour chaque problème, indique s'il s'agit d'un problème de type A ou B, complète le schéma puis résous-le sur ton cahier.

Entraînements

1 - Dans un troupeau de moutons, il y a 302 moutons. 145 de ces moutons sont noirs. Les autres moutons sont blancs.

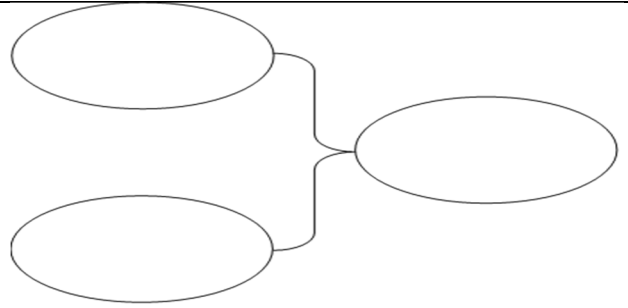
Combien de moutons blancs y a-t-il dans ce troupeau ?

Type de problème :



2 - Dans un concert, on a compté 7 514 spectateurs. 689 de ces spectateurs avaient eu une entrée gratuite. *Combien de spectateurs ont payé leur entrée ?*

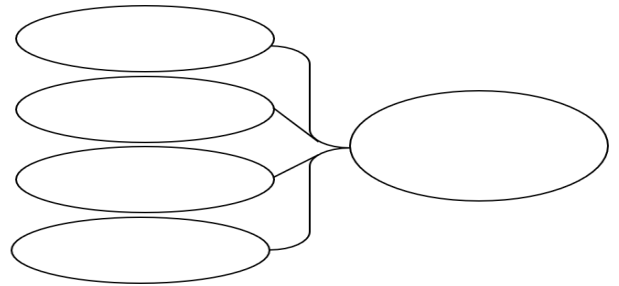
Type de problème :



3 - En une semaine, Monsieur et Madame Lafontaine ont consommé 1 470 litres d'eau pour se laver, 28 litres pour arroser les géraniums, 360 litres d'eau pour laver le linge et 460 litres d'eau pour laver la vaisselle.

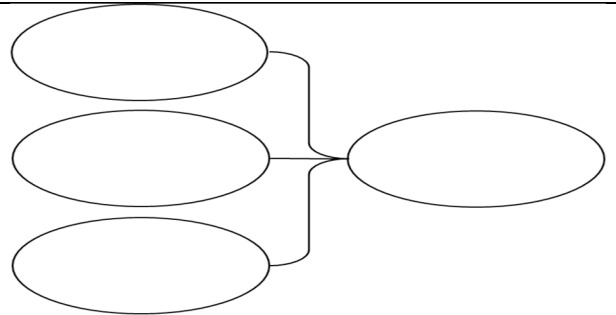
Combien ont-ils utilisé de litres d'eau en tout ?

Type de problème :

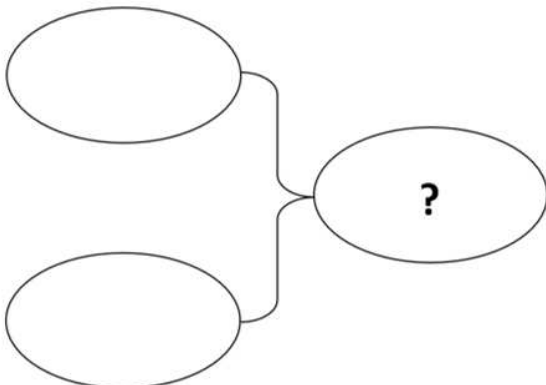


4 - Une salle de cinéma compte 130 places. 45 places sont occupées par des filles et 18 par des garçons. *Combien y a-t-il de sièges vides ?*

Type de problème :



A



B

