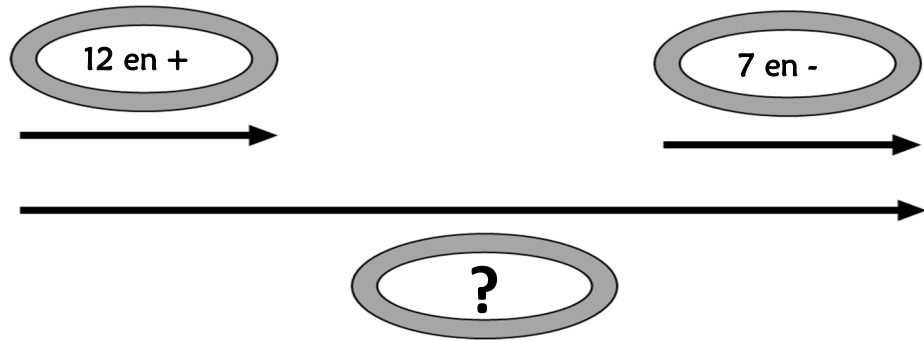


Résolution de problèmes CM2 - Problèmes additifs : composition de transformations 1

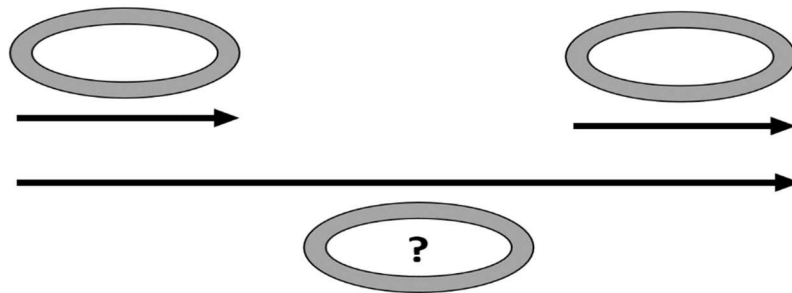
Problème collectif

Hakim a joué 2 parties de billes. A la première partie, il a gagné 12 billes et à la deuxième il en a perdu 7. Combien a-t-il gagné de billes en tout ?

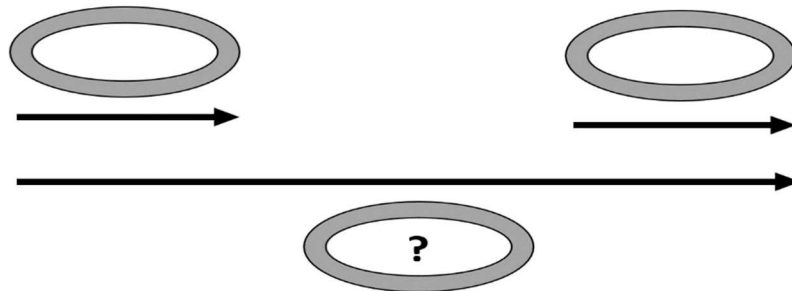


Entraînements

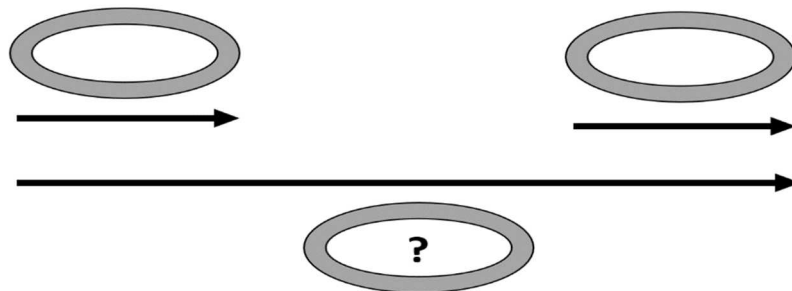
1 - Au casino, un joueur gagne 564 €, puis perd 189 €. Quelle somme ce joueur a-t-il gagnée en tout ?



2 - À la gare de Lyon, 351 personnes sont descendues du train, et 209 y sont montées. Combien y a-t-il maintenant de passagers en moins ?



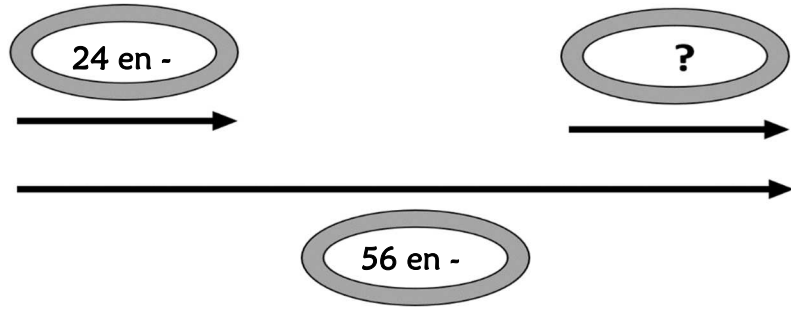
3 - Un magasin a vendu aujourd'hui 1 454 bouteilles d'eau. Il en avait reçu ce matin 1 536 bouteilles. Combien le magasin a-t-il de bouteilles en plus par rapport à hier ?



Résolution de problèmes CM2 - Problèmes additifs : composition de transformations 2

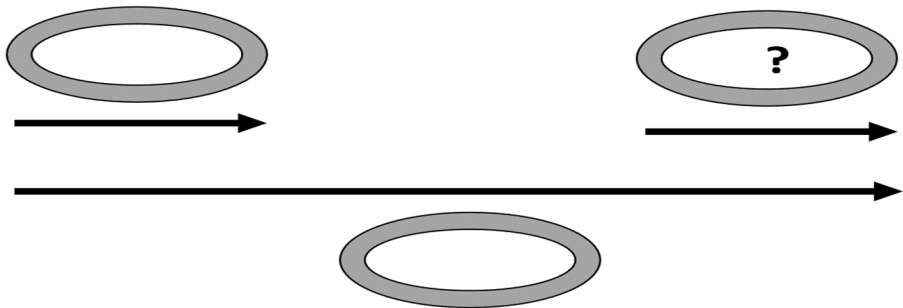
Problème collectif

Aujourd'hui j'ai dépensé 56 €. Ce matin j'ai dépensé 24 €. Combien ai-je dépensé cet après-midi ?

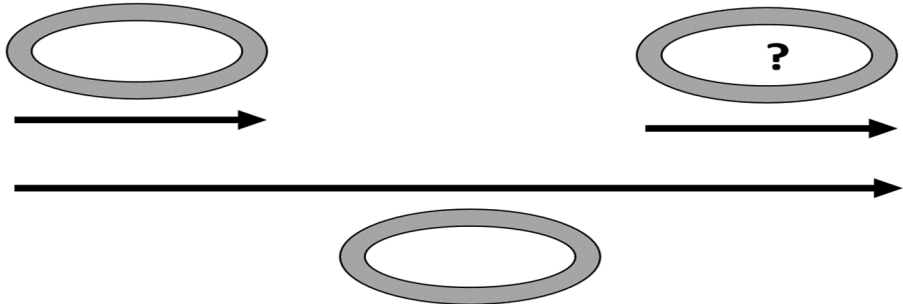


Entraînements

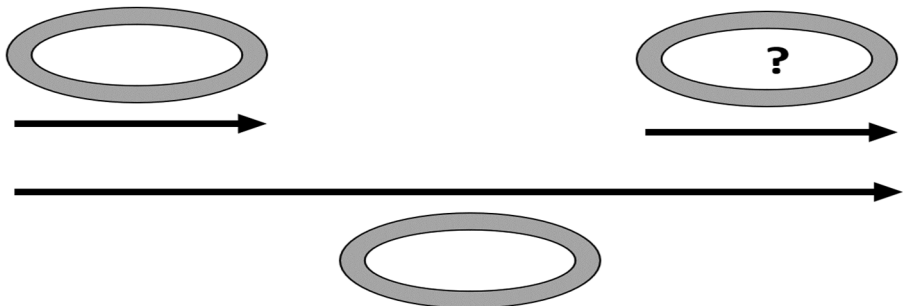
1 - Ce soir, une bibliothèque compte 895 livres en moins par rapport à hier. Aujourd'hui, 1 652 livres sont rentrés. Combien de livres sont sortis ?



2 - En un an, une ville a gagné 2 365 habitants. Il y a eu 4 056 naissances. Combien y a-t-il eu de décès ?



3 - En un mois, une entreprise a fait un bénéfice de 56 231 €. Les dépenses se sont élevées à 88 963 €. Quel a été le montant des recettes de cette entreprise ?



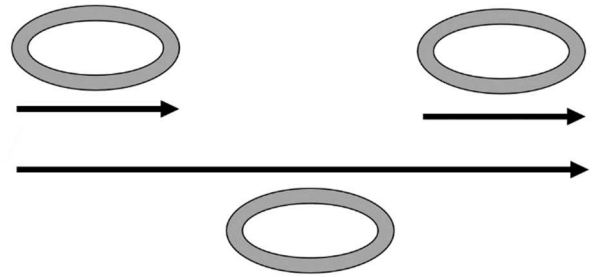
Résolution de problèmes CM2 - Problèmes additifs : composition de transformations 3

Pour chaque problème, indique s'il s'agit d'un problème de type A ou B, complète le schéma puis résous-le sur ton cahier.

Entraînements

1 - Monsieur Henri employé aux archives départementales range des dossiers. Il en a 378 de plus que la veille.

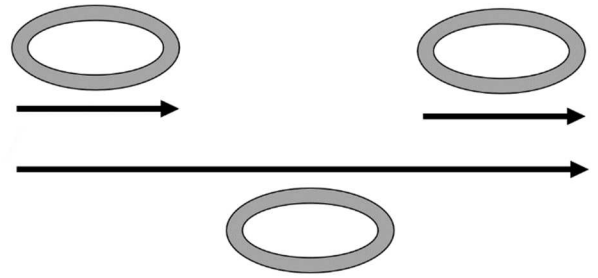
En sachant qu'il a ajouté 466 nouveaux dossiers, combien a-t-il jeté de dossiers périmés ?



Type de problème :

2 - Le directeur d'une galerie achète un tableau 56 412 €.

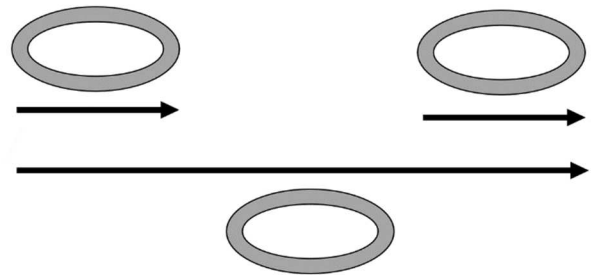
En le revendant, il réalise un bénéfice de 28 463 €. À quel prix a-t-il revendu le tableau ?



Type de problème :

3 - À la frontière franco-allemande, on a noté aujourd'hui que 153 296 voitures sont entrées, tandis que 214 965 voitures sont sorties.

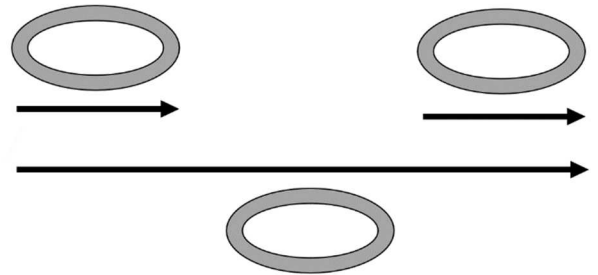
Combien de voitures de plus sont sorties ?



Type de problème :

4 - Après avoir fait 42 000 € de travaux, une maison a été vendue 156 500 €.

Quel bénéfice a été réalisé sur la vente de cette maison ?



Type de problème :

