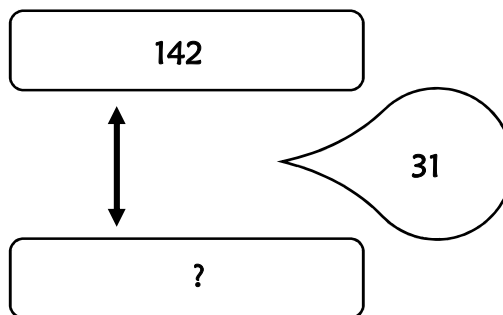


Résolution de problèmes CM2 - Problèmes additifs : comparaison 1

Problème collectif

Pierre a 142 timbres de collection. Il en possède 31 de plus que Sophie.

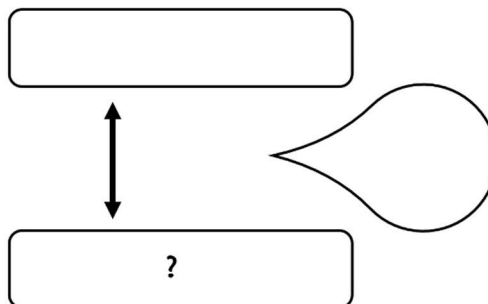
Combien Sophie a-t-elle de timbres ?



Entraînements

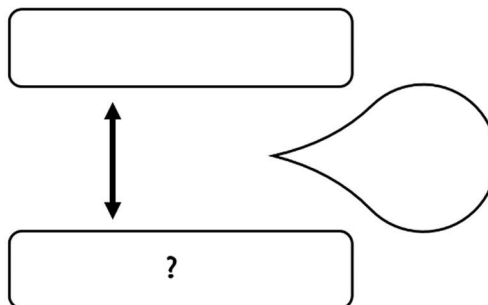
1 - La France compte 10 millions de chiens. C'est 4,5 millions de plus qu'en Italie.

Combien y a-t-il de chiens en Italie ?



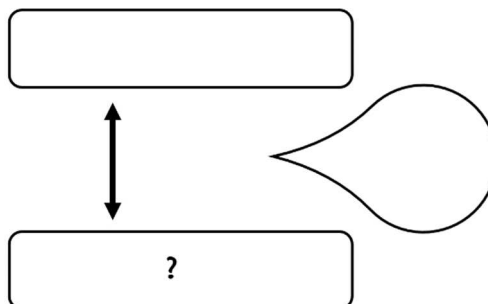
2 - Dans le club du village, il y a 32 basketteurs. Ils sont 19 de moins que les footballeurs.

Combien y a-t-il de footballeurs ?



3 - Cette année, il y a eu 34 387 visiteurs à l'exposition Florissimo. On a vendu 6 704 billets de plus qu'en 2018.

Combien y avait-il eu de visiteurs en 2018 ?

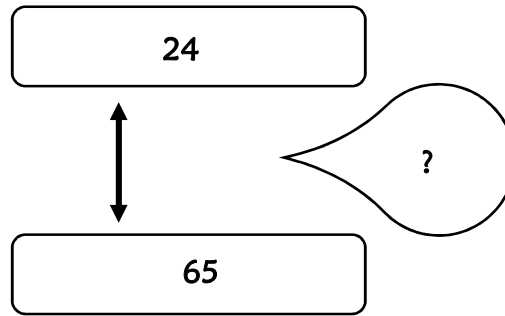


Résolution de problèmes CM2 - Problèmes additifs : comparaison 2

Problème collectif

Dans un magasin, un jouet vaut 24 €. Il vaut 65 € dans un autre magasin.

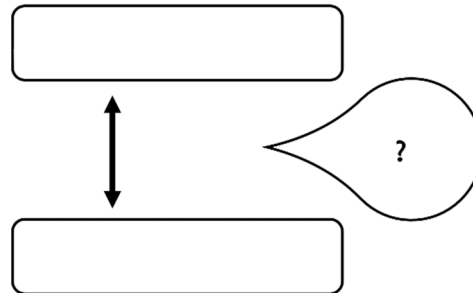
De combien est-il plus cher dans le 2^{ème} magasin ?



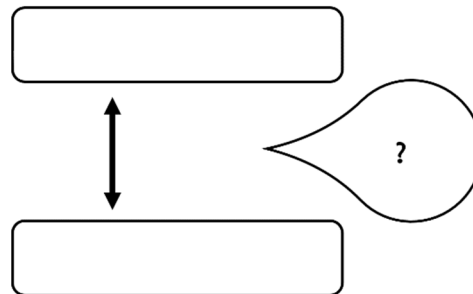
Entraînements

1 - À Val d'Isère, une piste de ski olympique part à l'altitude de 2 815 m et arrive à l'altitude de 1 795 m.

Quelle est la dénivellation entre le départ et l'arrivée ?

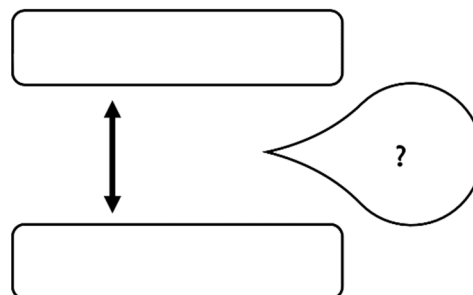


2 - En l'an 2000, la ville de New York comptait 16 800 000 d'habitants et la ville de Mexico 25 600 000. *Combien y a-t-il d'habitants en plus à Mexico ?*



3 - Le champ de Monsieur André a une aire de 12,7 hectares. Celui de Monsieur Baptiste a une aire de 15,8 hectares.

Quelle est la différence de surface entre les deux champs ?



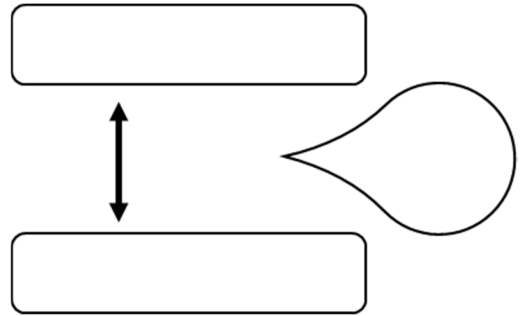
Résolution de problèmes CM2 - Problèmes additifs : comparaison 3

Pour chaque problème, indique s'il s'agit d'un problème de type A ou B, complète le schéma puis résous-le sur ton cahier.

Entraînements

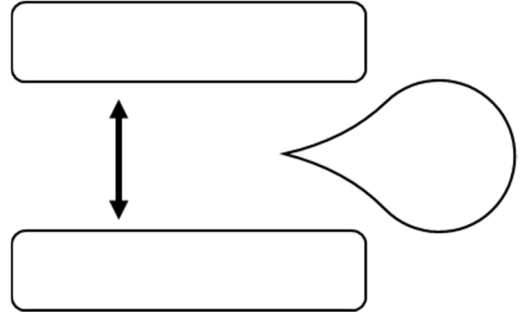
1 - Mon ancien appartement avait une superficie de 76,5 m². Mon nouveau logement fait 8,5 m² de plus.
Quelle est la superficie de mon nouveau logement ?

Type de problème :



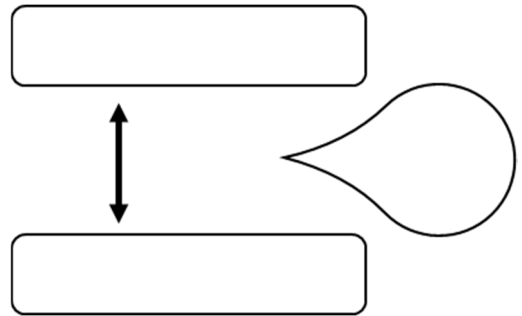
2 - Avec 12 104 km, le diamètre de Vénus compte 7 224 km de plus que celui de Mercure.
Quel est le diamètre de Mercure ?

Type de problème :



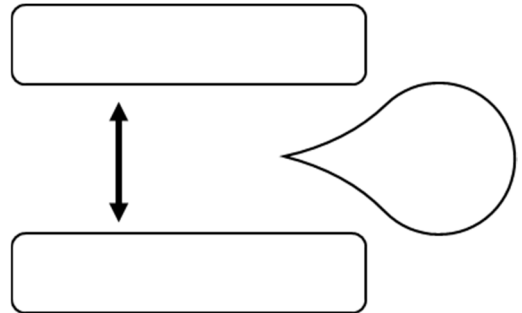
3 - L'an dernier, mon salaire était de 1 547 € par mois. Cette année, après une augmentation, il est passé à 1 603 €.
Quel a été le montant de l'augmentation ?

Type de problème :

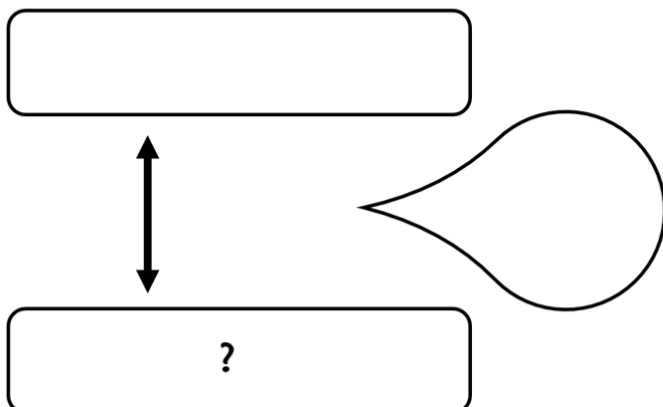


4 - La population de Paris est de 2,141 millions d'habitants. Celle de Rome est de 2,873 millions d'habitants.
Combien Paris compte-t-elle d'habitants en moins par rapport à Rome ?

Type de problème :



A



B

