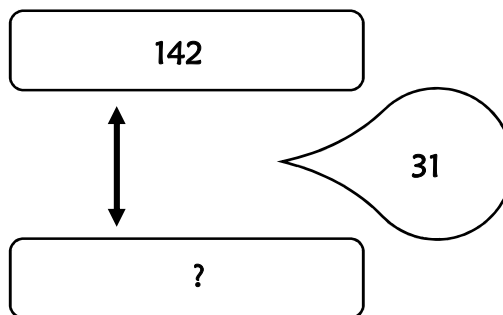


Résolution de problèmes CM1 - Problèmes additifs : comparaison 1

Problème collectif

Pierre a 142 timbres de collection. Il en possède 31 de plus que Sophie.

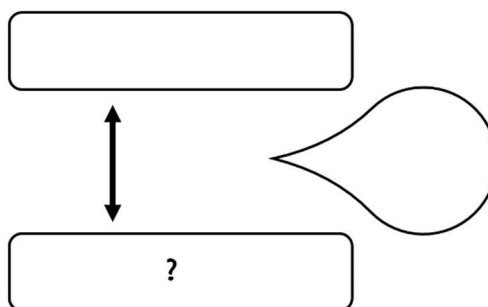
Combien Sophie a-t-elle de timbres ?



Entraînements

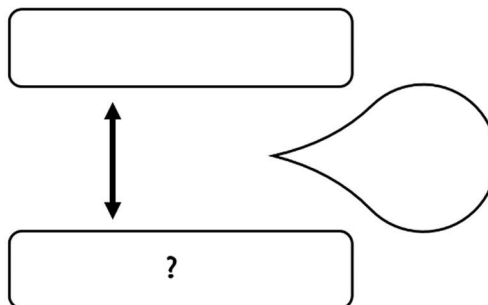
1 - Monsieur Dupont gagne 1 940 € par mois. Il gagne 200 € de plus que Monsieur Martin.

Combien Monsieur Martin gagne-t-il par mois ?



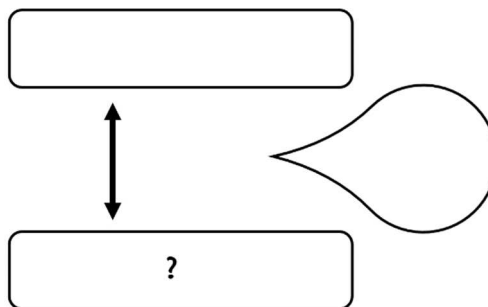
2 - Un VTT coûte 189 € à Carrefour et 25 € de moins à Decathlon.

Quel est le prix du VTT à Decathlon ?



3 - Samuel a 28 ans de moins que sa mère. Il fête aujourd'hui ses 14 ans.

Quel âge a la mère de Samuel ?

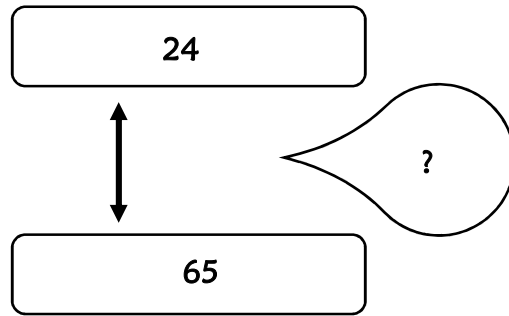


Résolution de problèmes CM1 - Problèmes additifs : comparaison 2

Problème collectif

Dans un magasin, un jouet vaut 24 €. Il vaut 65 € dans un autre magasin.

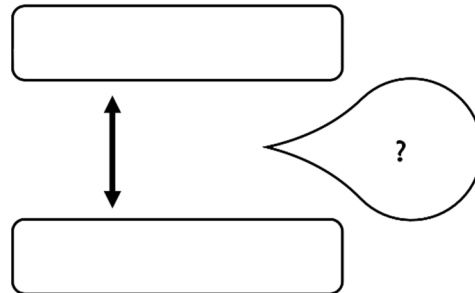
De combien est-il plus cher dans le 2^{ème} magasin ?



Entraînements

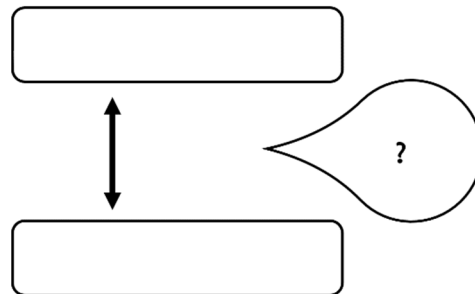
1 - Le lycée Vercors accueille 2 127 élèves. Le lycée Belledonne accueille 2 549 élèves.

Combien le lycée Belledonne a-t-il de plus d'élèves que le lycée Vercors ?



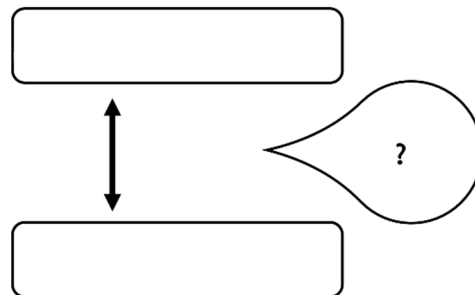
2 - Un garage propose deux voitures de la même marque. La première avec un équipement de base coûte 9 000 €. La seconde avec des options coûte 11 500 €.

De combien la deuxième est-elle plus chère ?



3 - La Loire mesure 1 020 km. Le Rhône mesure 812 km.

De combien de kilomètres le Rhône est-il plus court ?



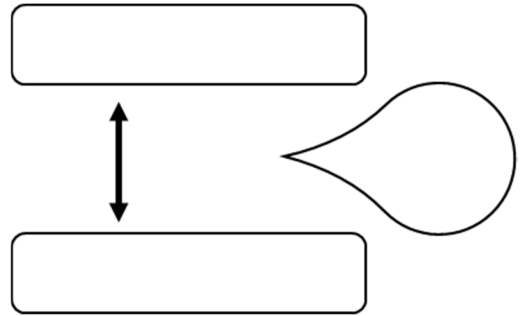
Résolution de problèmes CM1 - Problèmes additifs : comparaison 3

Pour chaque problème, indique s'il s'agit d'un problème de type A ou B, complète le schéma puis résous-le sur ton cahier.

Entraînements

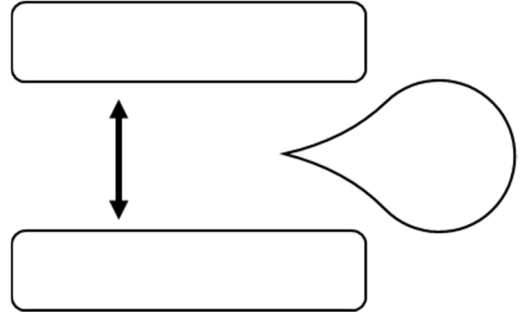
1 - Un adulte possède 32 dents, ce qui représente 12 dents de plus qu'un enfant.
Combien un enfant possède-t-il de dents ?

Type de problème :



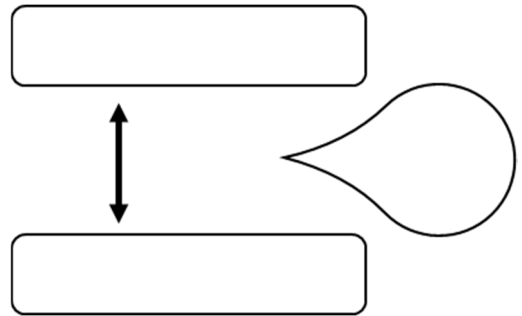
2 - Miramas compte 25 639 habitants. Il y en a 43 086 à Istres.
Quelle est la différence de population entre les deux villes ?

Type de problème :



3 - Mireille a vu un ordinateur dont le prix était 489 €. En l'achetant pendant les soldes, elle l'a payé 379 €.
Quel a été le montant de la réduction ?

Type de problème :



4 - Un collégien a 32 heures de cours par semaine. Un écolier en a 8 de moins.
Combien d'heures de cours l'écolier a-t-il ?

Type de problème :

