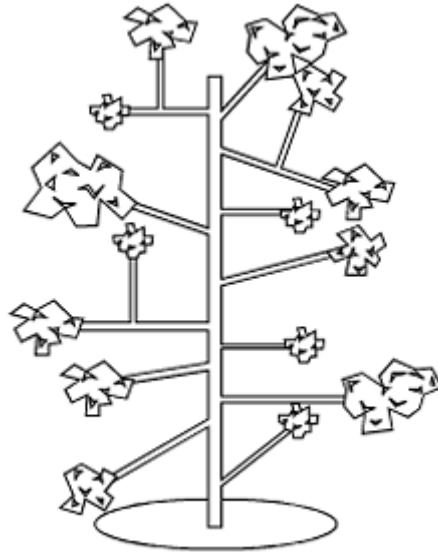
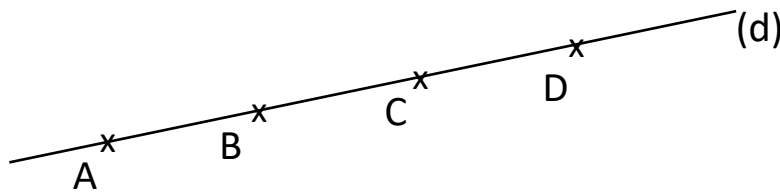


# Identifier et tracer des droites perpendiculaires

★ Marque tous les angles droits que tu trouves entre ces branches.



★★ Trace à l'aide de ta règle et ton équerre, quatre droites perpendiculaires à la droite (d) passant par les points A, B, C et D.



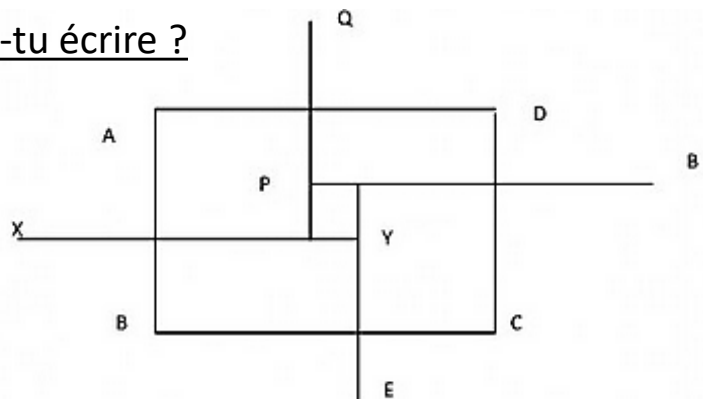
★ Sur le même modèle, que peux-tu écrire ?

(xy)  $\perp$  (...)

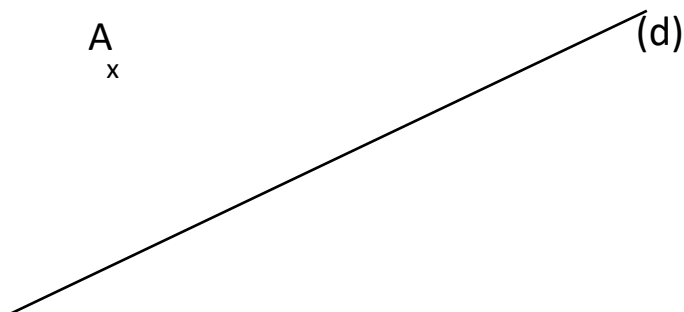
(xy)  $\perp$  (...)

(xy)  $\perp$  (...)

(xy)  $\perp$  (...)



☆☆ Trace la droite perpendiculaire à (d) passant par le point A.



☆☆☆ Reproduis le modèle donné ci-dessous au crayon.

