

# Cuisine

nom	A	adverbe	E
déterminant	B	préposition	F
adjectif	C	conjonction	G
verbe	D	pronom	A#

Pour chacune des phrases suivantes, trouve la classe du mot surligné.

1. La modeste cuisine ressemble désormais à un lac contaminé de déchets.
2. Hier, toute la famille s'affairait à préparer un repas grandiose.
3. Maintenant, il n'y a aucune trace d'un membre de sa famille ou de son animal de compagnie.
4. Rosalie cherche minutieusement des indices dans la cuisine.
5. Sa respiration est haletante et ses gestes sont saccadés.










Clique sur le lien <https://lockee.fr/o/tuwYAMu8> et entre le code de cadenas musical.



# Salle de bain

Effectue les calculs suivants.

Place tes réponses  
en ordre croissant.  
Relie dans l'ordre les  
4 premiers nombres  
dans le code à  
schéma.

 1	 2	 3
 4	 5	 6
 7	 8	 9

**-1-**  
$$\begin{array}{r} 779 \\ \times 23 \\ \hline \end{array}$$

**-2-**  
$$7704 \div 9$$

**-3-**  
$$9856 \div 7$$

**-4-**  
$$8595 \div 15$$

**-5-**  
$$\begin{array}{r} 243 \\ \times 16 \\ \hline \end{array}$$

**-6-**  
$$\begin{array}{r} 327 \\ \times 8 \\ \hline \end{array}$$

**-7-**  
$$\begin{array}{r} 619 \\ \times 4 \\ \hline \end{array}$$

**-8-**  
$$5868 \div 12$$

**-9-**  
$$\begin{array}{r} 1099 \\ \times 5 \\ \hline \end{array}$$

Clique sur le lien <https://lockee.fr/o/hNjrJVsy> et entre le code de cadenas à schéma.



# Salon

Transforme les adjectifs suivants en adverbe.

1. bruyant	bruit	bruyamment	bruiteur
2. faible	faiblir	faiblesse	faiblement
3. puissante	puissance	puissamment	puissant
4. fou	folle	folie	follement
5. cruel	cruellement	cruelle	cruauté

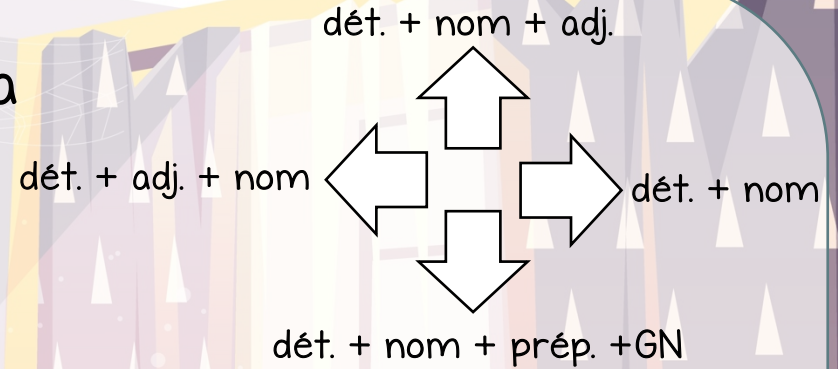
Clique sur le lien <https://lockee.fr/o/Vr8iFfSm> et entre le code de cadenas à couleurs.





# Chambre

Trouve le groupe du nom qui a la fonction sujet dans la phrase. Quelle est sa construction?



1. La jeune fille se dirige rapidement au deuxième étage de sa maison.
2. En ouvrant la porte de sa chambre, plusieurs objets jonchent le sol.
3. Curieusement, le jouet de son frère est sur son lit douillet.
4. Les rideaux colorés sont déchirés.
5. Hier, toutes les chambres de la maison étaient bien rangées.

Clique sur le lien <https://lockee.fr/o/FCvBFGI9> et entre le code de cadenas directionnel.

# Garde-robe

Recompose les nombres suivants.

1. 47 dizaines + 94 dizaines de mille + 1 unité de mille + 15 unités =
2. 7 000 + 90 000 + 8 + 300 + 40 =
3.  $(6 \times 100\,000) + (3 \times 10\,000) + (8 \times 1\,000) + (2 \times 10) + (7 \times 1) =$
4. 8 dizaines de mille + 23 unités de mille + 4 centaines + 32 dizaines + 19 unités =
5.  $(4 \times 10\,000) + (3 \times 1) + (5 \times 1\,000) + (9 \times 10) =$

Entre le chiffre à la position des centaines pour chacun des nombres trouvés.

Clique sur le lien <https://lockee.fr/o/NLBN4axu> et entre le code de cadenas numérique.