

Nom :

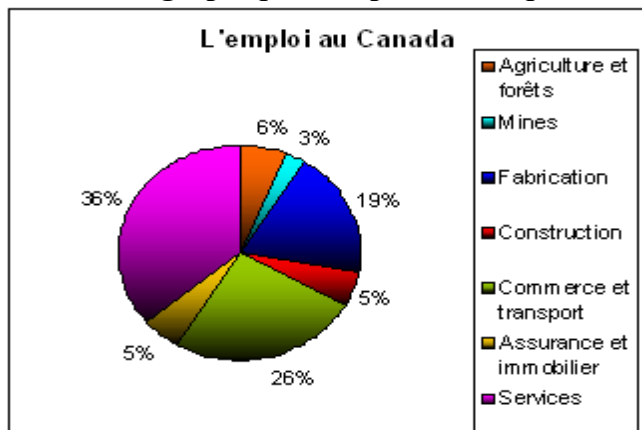
Date :

Test Ceinture Orange de Problèmes CM2



Bravo Tu y es presque Tu dois encore t'entraîner Score : sur 18 points

Observe le graphique et réponds aux questions.



1. Quel est le titre du graphique ?

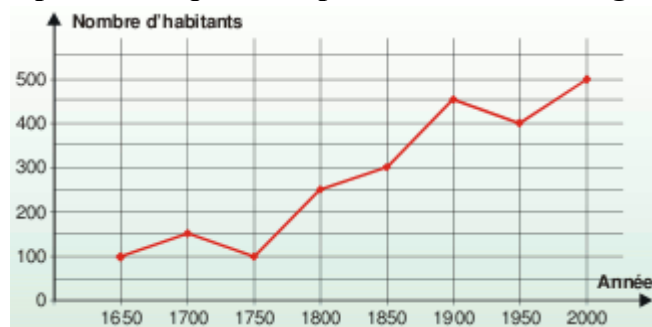
2. Que nous apprend ce graphique ?

3. À quoi correspond la couleur bleu foncé ?

4. Quelle est la couleur pour les mines ?

5. À quel métier correspond la proportion 36 % ?

Réponds aux questions posées en t'aidant du graphique.



1. Quel est le nombre d'habitants en 1650 et 1900 ?

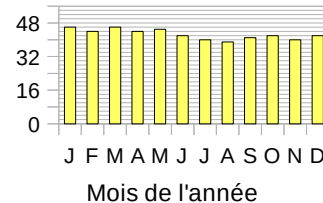
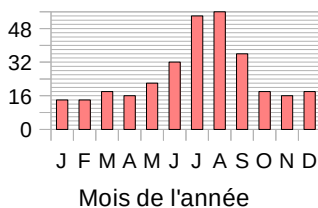
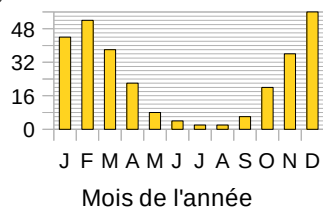
2. Quelle est la population maximum ? En quelle année ?

3. Quelles sont les dates où il y a le même nombre d'habitants ?

4. Quelle est la tendance d'évolution de la population entre 1750 et 1900 ?

Observe le graphique et réponds aux questions.

Ces trois graphiques représentent les ventes de trois produits durant l'année. Quel graphique correspond à la vente de glaces ? À la vente de lait ? À la vente de chaussures de ski ? Explique tes choix.



Complète la courbe grâce au tableau.

Matières	Maths	Français	Histoire	Géographie	EPS	Anglais	SVT	Physique
Moyennes	20	4	16	10	18	14	8	10

