

Nom : .....

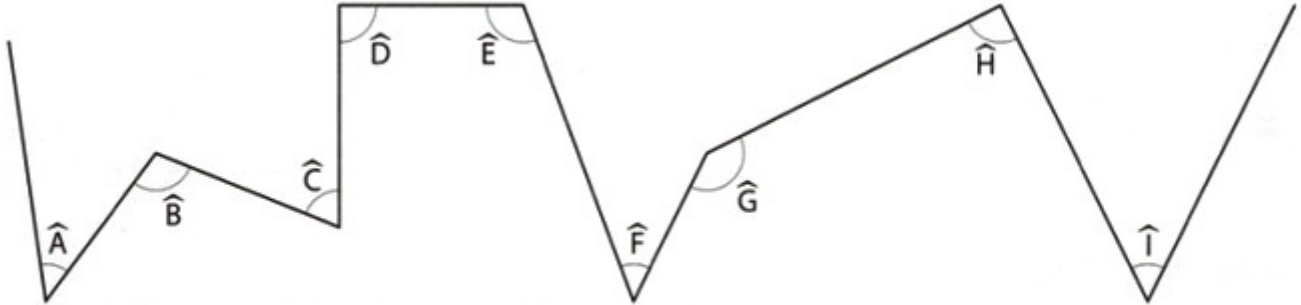
Date : .....

# Test Ceinture Noire de Mesures CM2



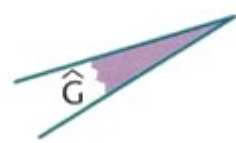
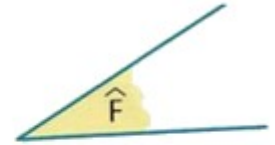
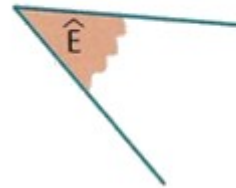
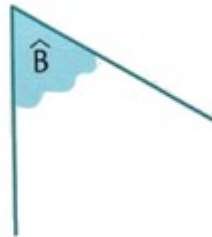
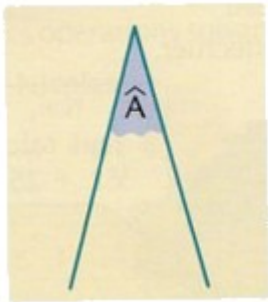
Bravo  Tu y es presque  Tu dois encore t'entraîner      Score : .... sur 27 points

Observe les angles et classe-les dans le tableau.



Angles aigus	Angles droits	Angles obtus

Utilise du papier calque et indique si chaque angle est plus petit, égal ou plus grand que  $\hat{A}$ .



**Trace les polygones suivants en respectant les contraintes :**

→ polygone ayant au moins un angle droit.

→ polygone ayant 2 angles aigus et 2 angles obtus

→ polygone ayant un angle droit, 2 angles obtus, 1 angle aigu.

→ polygone ayant 3 angles aigus