

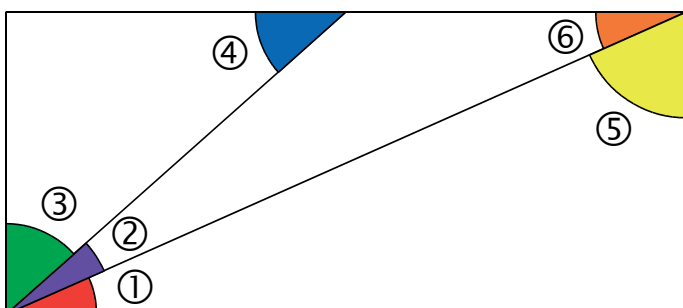
# M4 Angles

## FICHE 1 : COMPARAISON D'ANGLES

1 Parmi les deux angles, lequel est le plus grand ?

<p>① ou ②</p>	<p>③ ou ④</p>
<p>⑤ ou ⑥</p>	<p>⑦ ou ⑧</p>

2 On considère cette figure.



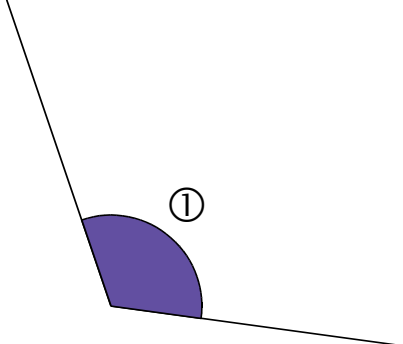
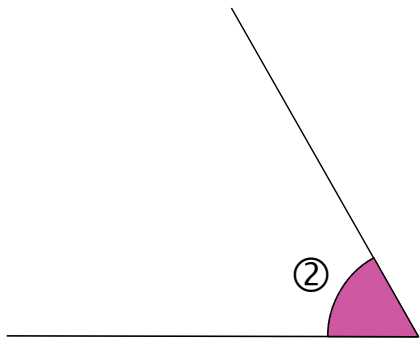
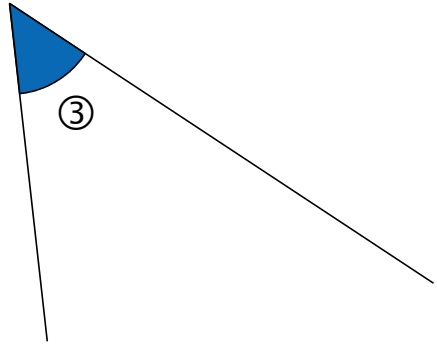
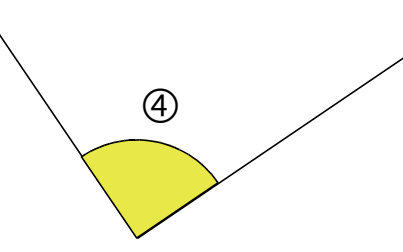
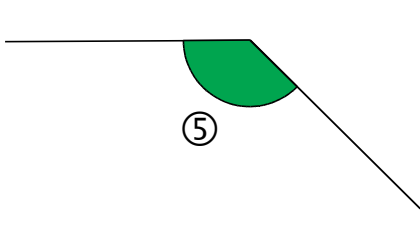
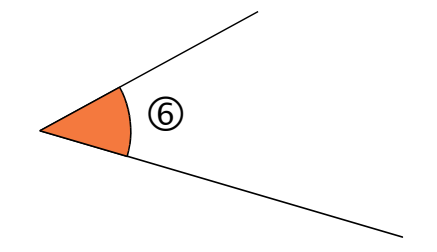
a. À quel angle est égal l'angle ⑥ ? .....

b. Range les angles ① à ⑤ dans l'ordre croissant.

.....

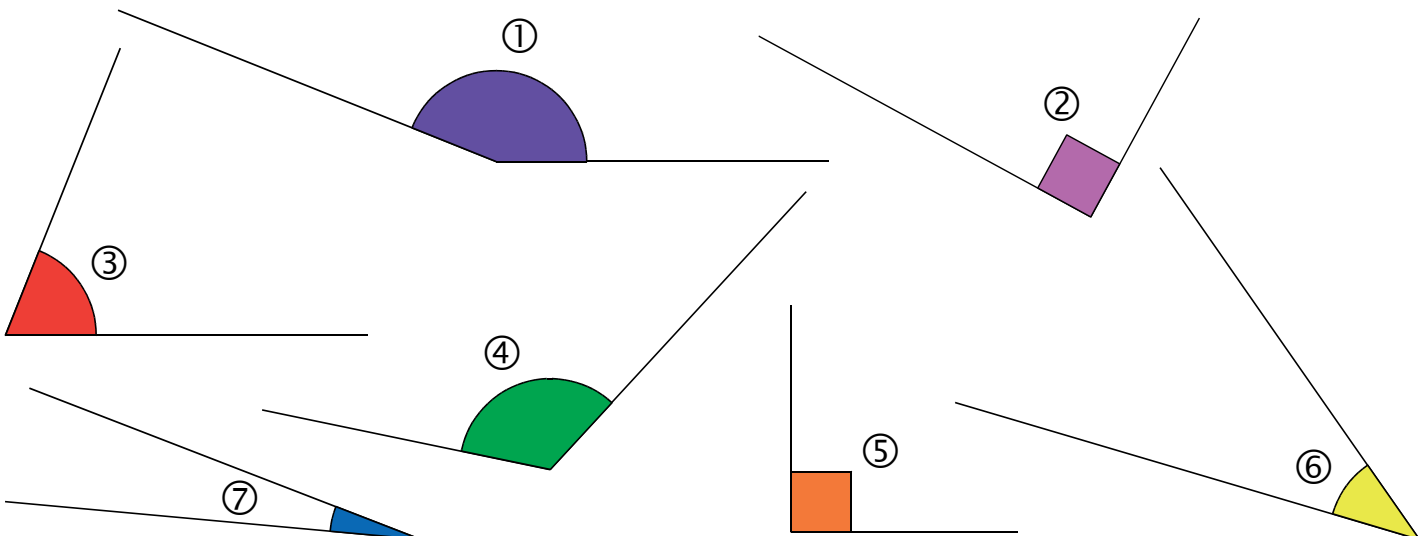
FICHE 2 : ANGLE DROIT, AIGU OU OBTUS ?

1 Chaque angle est-il droit, aigu ou obtus ?

		
<input type="checkbox"/> droit <input type="checkbox"/> aigu <input type="checkbox"/> obtus	<input type="checkbox"/> droit <input type="checkbox"/> aigu <input type="checkbox"/> obtus	<input type="checkbox"/> droit <input type="checkbox"/> aigu <input type="checkbox"/> obtus
		
<input type="checkbox"/> droit <input type="checkbox"/> aigu <input type="checkbox"/> obtus	<input type="checkbox"/> droit <input type="checkbox"/> aigu <input type="checkbox"/> obtus	<input type="checkbox"/> droit <input type="checkbox"/> aigu <input type="checkbox"/> obtus

2 Classe ces angles dans le tableau ci-dessous.

Angles droits	Angles aigus	Angles obtus



3 Colorie en bleu les angles obtus et en rouge les angles aigus.

