







M3 Durées

FICHE 1 : CALCULS DE DURÉES



1 Écris l'heure, du matin et de l'après-midi, indiquée par chaque horloge.

	a. 	b. 	c. 	d. 
Matin				
Après-midi				



2 Indique la durée écoulée (inférieure à 12 h) entre les deux horloges.

a.  

Durée écoulée :

b.  

Durée écoulée :

c.  

Durée écoulée :

3 On a relevé certaines heures de lever et de coucher du soleil à Paris.

Dates	Lever	Coucher
1 ^{er} avril	7 h 27	20 h 22
1 ^{er} juillet	5 h 52	21 h 57
1 ^{er} septembre	7 h 08	20 h 32
1 ^{er} octobre	7 h 51	19 h 28

a. Quelle est la durée de chacune des journées indiquées ?

.....

.....

.....

.....

.....

b. Classe ces journées dans l'ordre croissant de leur durée.

.....

.....

.....

