



# Mesures d'aires 1

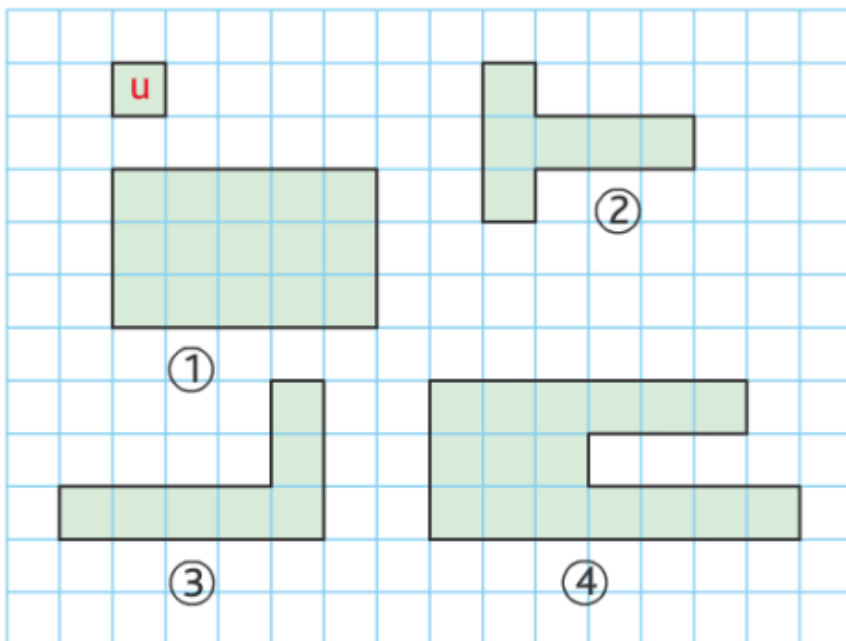
## Evaluation

Prénom : .....

Date : .../.../20....

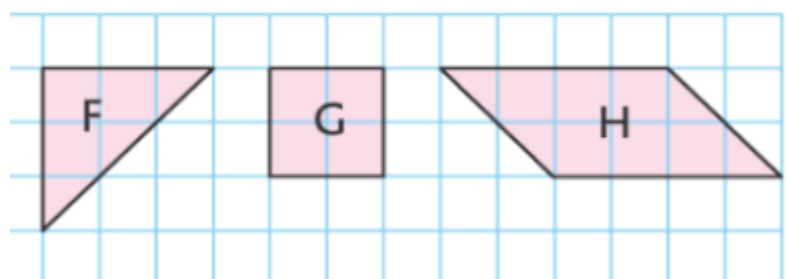
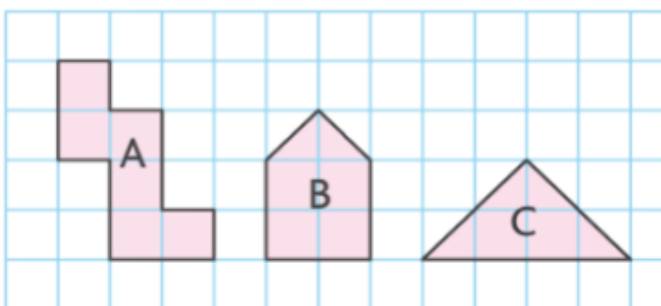
Compétences	Acquis	Partiellement acquis	Non acquis	Dépassé
Savoir comparer et mesurer des aires.				


### 1- Mesure l'aire de ces surfaces avec l'unité proposée.



①	..... u
②	..... u
③	..... u
④	..... u

### 2- Classe ces figures dans l'ordre croissant de leur aire.





# Mesures d'aires 1

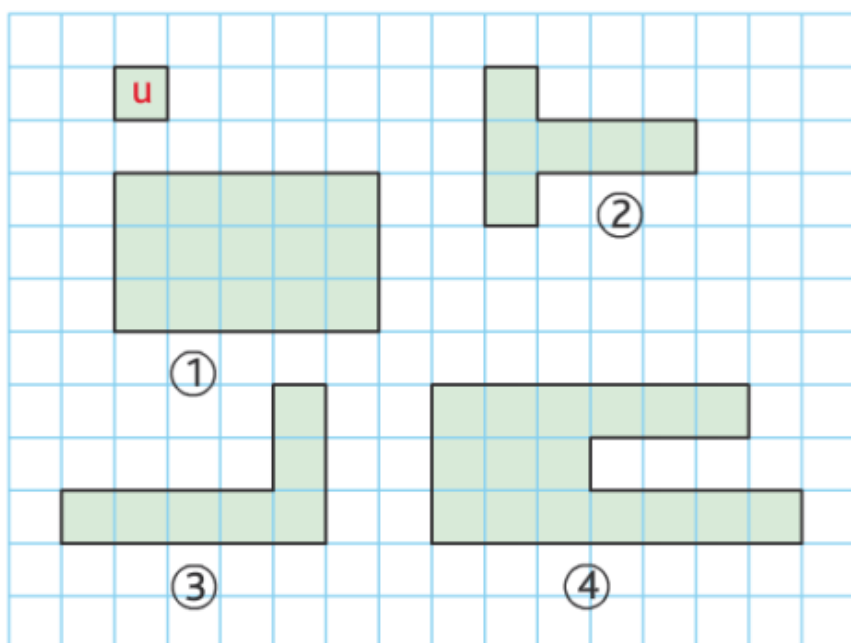
## Evaluation

Prénom : .....

Date : .../.../20....

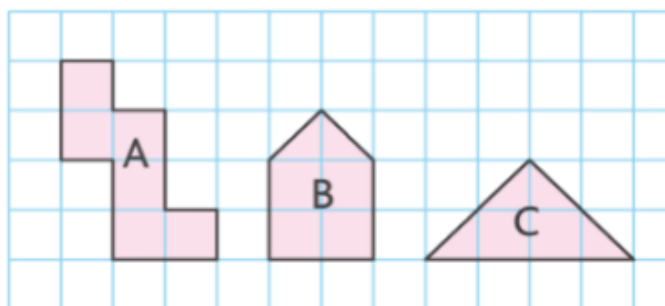
Compétences	Acquis	Partiellement acquis	Non acquis	Dépassé
Savoir comparer et mesurer des aires.				

### 1- Mesure l'aire de ces surfaces avec l'unité proposée.

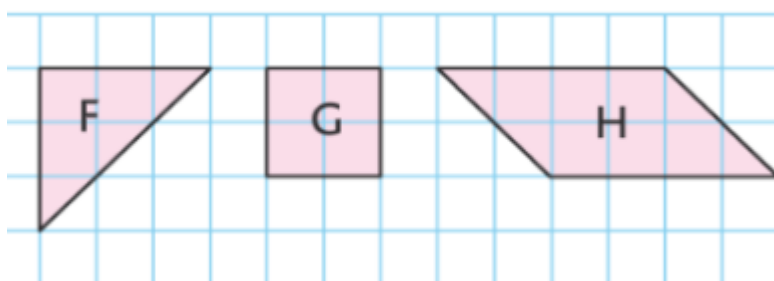


①	15 u
②	6 u
③	7 u
④	16 u

### 2- Classe ces figures dans l'ordre croissant de leur aire.



$$C < B < A$$



$$G < F < H$$